

ВР

**ВСЕРОССИЙСКАЯ ОЛИМПИАДА ШКОЛЬНИКОВ
ПО ИСТОРИИ. МУНИЦИПАЛЬНЫЙ ЭТАП.
7- 8 КЛАССЫ.**

Максимальный балл – 90.

Задание 1. Укажите один верный ответ в каждом задании (2 балла за каждый правильный ответ, максимальный балл – 8).

1.1. Председатель следственной комиссии по делу о гибели царевича Дмитрия в 1591 г.

- 1) Андрей Клешнин
- 2) Федор Романов
- 3) Василий Шуйский
- 4) Борис Годунов
- 5) Андрей Курбский
- 6) Иван Воротынский

Ответ: 5

1.2. Кому из русских правителей принадлежат эти изображения



- 1) Александр Невский
- 2) Владимир Мономах
- 3) Ярослав Осмомысл
- 4) Дмитрий Донской
- 5) Даниил Галицкий

Ответ: 2, 5, 4

2.2. Что из названного относится к итогам правления Ивана III?

- 1) Свержение ордынского владычества
- 2) Получение Россией выхода к морю
- 3) Присоединение к России Сибирского ханства
- 4) Начало созыва Земских соборов
- 5) Подчинение Новгорода Москве
- 6) Отмена местничества

Ответ: 1, 5, 6

2.3. Укажите даты принятия законов о закрепощении крестьян

- 1) 1380 г.
- 2) 1558 г.
- 3) 1581 г.
- 4) 1242 г.
- 5) 1185 г.
- 6) 1597 г.

Ответ: 3, 6, 1

Задание 3. Укажите два неверных (лишних) элемента (явление, термин, событие) в задании. (1 балл за каждый правильный ответ, максимальный балл – 8).

3.1. Ниже приведён перечень терминов. Все они, за исключением двух, относятся к событиям XIII в.

- 1) опричники; 2) баскаки; 3) ордынский выход; 4) пожилое; 5) ярлык; 6) бесермены

Запишите термины.

Ответ: 1) опричники; 4) пожилое.

3.2. Ниже приведён список терминов. Все они, за исключением двух относятся ко времени правления княгини Ольги.

- 1) повоз; 2) устав; 3) ловища; 4) Дюденева рать; 5) становища; 6) тарханные грамоты

Запишите термины.

Ответ: 4) Дюденева рать, 6) тарханные грамоты

Задание 5. Рассмотрите изображение и выполните задания.

5.1. Назовите автора картины, ее название и время воздания (век). (За каждый правильный ответ – 1 балл. Максимальный балл – 3.)



Ответ:

Автор	Название произведения	Время создания
В. И. Суриков	Иван Трубный с сыном своим Иваном	XVII-XVIII вв.

5.2. Какие суждения о представленной картине являются верными? (за каждое правильное суждение – 1 балл)

1. На картине изображены представители царской династии.
2. Автор картины являлся членом Товарищества передвижных художественных выставок.
3. Данная картина является единственным обращением её автора к теме истории России.
4. Действие картины происходит в XVII в.
5. Автором картины является В. И. Суриков.

Ответ: 1, 5, 2 2

Задание 6. Восстановите правильную хронологическую последовательность исторических событий. Запишите ответ в виде последовательности номеров событий в задании (4 балла за каждую верную последовательность, максимальный балл за все задание – 12 баллов)

таки себе славу, ставшую ей мощным оружием, как тот военный корабль, который назывался «Слава Екатерины»...

Французский дипломат Корберон писал в своём донесении, что слава, которую создала себе императрица, её решительный характер, её способности и удача заменяют ей искусных государственных людей и опытных генералов.

...Императрица вошла в историю России как выдающийся государственный деятель, и эпоха её царствования стала временем грандиозных реформ и издания важнейших законодательных актов...

Перед ней были реальные цели укрепления самодержавия, проведения необходимых военной, административной и сословной реформ. Она осуществляла их в едином ключе, с одной генеральной идеей — максимально способствовать развитию и совершенствованию того «регулярного» государства, основы которого заложил ещё Пётр Великий.

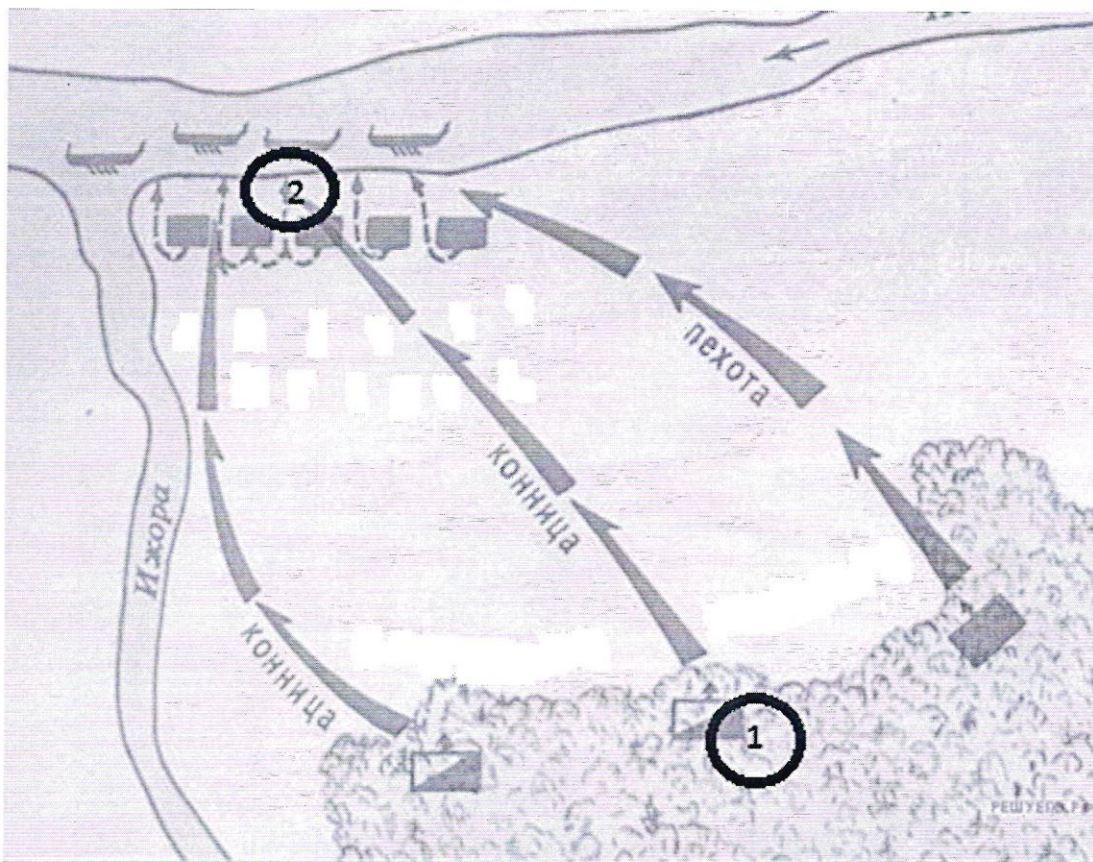
...Законодательные акты Екатерины надолго пережили её и вместе с основными законами Петра Великого стали на долгие десятилетия основной российской государственности. Собственно, о таком выводе историка и мечтала, вероятно, честолюбивая царица-законодательница» (из сочинения современного историка Е. В. Анисимова).

- 1) В какой период царствовал правитель, о котором идет речь в документе? (1 балл)
- 2) Под каким названием этот период вошел в историю? (1 балл)
- 3) Как оценивает автор эпоху Екатерины II? (1 балл)
- 4) Какие качества её личности помогли, по мнению современников и историков, совершить столь грандиозные преобразования и создать себе славу? Назовите не менее четырех качеств (3 балла)
- 5) Используя текст документа и знания по истории, отметьте, какие реформы были проведены Екатериной II. Назовите не менее четырёх реформ. (3 балла)
- 6) Какие законодательные акты были изданы во время правления Екатерины II? Укажите не менее трех (3 балла)

Задание 8. Внимательно рассмотрите портреты исторических деятелей, связанных с историей Оренбургского края. В представленной таблице укажите: 1) имя исторического деятеля (1 балл); 2) название исторического события, непосредственным участником которого он являлся (1 балл); 3) дату этого события (1 балл) (1 балл за каждый из перечисленных элементов ответа к каждой репродукции, до 3 баллов за ответ по одной репродукции, максимальный балл за все задание – 9).

1	2
---	---

Задание № 9. Внимательно изучите схему и выполните задание (1 балл за каждый правильный из перечисленных элементов ответа, максимальный балл за все задание – 3 балла).



9.1. Назовите князя, победившего в этом сражении

Ответ: Александр Невский


9.2. Назовите сражение, представленное на схеме

Ответ: Битва на реке Неве


9.3 Укажите месяц и год, изображенного на схеме события.

Ответ: 12 июля 1240

Задание 10. Назовите произведения искусства, посвященные событию, отображенному на вышеприведенной схеме или участвовавшему в нем князю. Заполните таблицу, выписав номера только тех произведений, которые посвящены указанному событию. К номеру правильного ответа напишите название произведения и его автора. (За каждый правильно названный элемент – 1 балл.)



9.



Ответ запишите в таблицу.

Номер иллюстрации	Название памятника	Автор
2	«Могила Александра Невского» 2	
3	«Взятие штурмом от Иова и похитил» —	
6	памятник Александру Невскому 2	
8	портрет Александра Невского 2	И. Бунин
9	«Смерть Александра Невского» картина 2	Бунин

6) Андрей Боголюбский

Ответ: 3

1.3. Какое из указанных сражений не относится к XVI веку?

- 1) Судбищенская битва
- 2) Битва у Молодей
- 3) Битва под Венденом
- 4) Раковорская битва
- 5) Бой под Невелем
- 6) Битва под Торопцем

Ответ: 4

+ 2

1.4. Какой племенной союз обитал в Среднем Поднепровье в VIII веке?

- 1) Дреговичей
- 2) Древлян
- 3) Полян
- 4) Северян
- 5) Тиверцев

Ответ: 2

Задание 2. Выберите несколько верных ответов в каждом задании (1 балл за каждый правильный ответ, максимальный балл – 7).

2.1. Какие из указанных определений не входили ни в одну редакцию Русской Правды?

- 1) Правда Ярослава
- 2) Уроки и погосты
- 3) Правда Ярославичей
- 4) Покон вирный
- 5) Урок мостников
- 6) Слово о законе и благодати

3.3. Ниже приведены имена славянских языческих богов. Все они, за исключением двух, входили в пантеон божеств, утвержденный князем Владимиром в ходе языческой религиозной реформы 980 г.

- 1) Перун; 2) Велес; 3) Макошь; 4) Ярило; 5) Дажьбог; 6) Хорс

Запишите термин.

Ответ: 4 Ярило; 6 Хорс

3.4. Ниже приведен перечень терминов. Все они, за исключением двух, относятся к периоду IX – XI вв.

- 1) смерд; 2) пожилое; 3) погост; 4) холоп; 5) вервь; 6) баскак

Запишите термин.

Ответ: 2 пожилое; 4 холоп

Задание 4. Установите соответствия. Запишите в таблицу выбранные цифры под соответствующими буквами. (1 балл за каждую правильно указанную цифру, максимальный балл – 11).

4.1

- | | |
|---|------------|
| А. Крещение Руси | 1. 1380 г. |
| Б. Куликовская битва | 2. 1480 г. |
| В. Битва на Калке | 3. 1613 г. |
| Г. Стояние на реке Угре | 4. 1667 г. |
| Д. Избрание Михаила Романова на царство | 5. 988 г. |
| Е. Заключение Андрусовского перемирия | 6. 1223 г. |

4.2

- | | |
|----------------------|---|
| А. Иван III | 1. Основание Московского государства |
| Б. Василий III | 2. Завершение объединения Московского центра с русскими землями |
| В. Петр I | 3. Политика «просвещенного абсолютизма» |
| Г. Екатерина II | 4. Строительство Санкт-Петербурга |
| Д. Александр Невский | 5. Победа при Неве |

Ответ:

№	А	Б	В	Г	Д	Е
4.1.	5	1	6	2	3	4
4.2.	2	1	4	3	5	

6.1. Установите хронологическую последовательность событий

- 1) Битва на Калке
- 2) Великий курултай
- 3) Захват монголами Киева
- 4) Битва на реке Сить
- 5) Разгром Рязанского княжества
- 6) Решение о Великом походе на Запад

Ответ: 2, 1, 6, 5, 4, 3

6.2. Установите хронологическую последовательность событий

1. Перемещение столицы России из Москвы в Санкт-Петербург
2. Завершение объединения Московского центра с русскими землями
3. Утверждение Московского судебника
4. Битва на Калке

Ответ: 4-2-3-1


6.3. Установите хронологическую последовательность событий

1. Отмена крепостничества
2. Строительство Санкт-Петербурга
3. Расширение территорий Русского государства при Иване Грозном
4. Избрание Михаила Романова на царство

Ответ: 3-4-2-1

Задание 7. Прочитайте отрывок из документа и ответьте на вопросы. (1 балл за каждый правильный ответ, максимальный балл – 12).

«Судьба Екатерины доказала, что человеческая воля, желание могут стать не менее реальным и могучим фактором истории» чем десятки многопушечных кораблей и тысячи солдат. Императрица Екатерина создала-









3



Ответ:

№ иллюстрации	Имя исторического деятеля	Название исторического события	Дата события
1	С. А. Фомин	Пугачёвский бунт	1773-1775 гг.
2	Державин	Русско-турецкие войны	
3	Матусов	Великая Отечественная война	1941-1945 гг.

К

<p>1.</p> 	<p>2.</p> 
<p>3.</p> 	<p>4.</p> 
<p>5.</p> 	<p>6.</p> 
<p>7.</p>	<p>8.</p>

1 - 2
2 - 5
3 - 6
4 - 9
5 - 8
6 - 4
7 - 0
8 - 2
9 - 2
10 - 8

41

